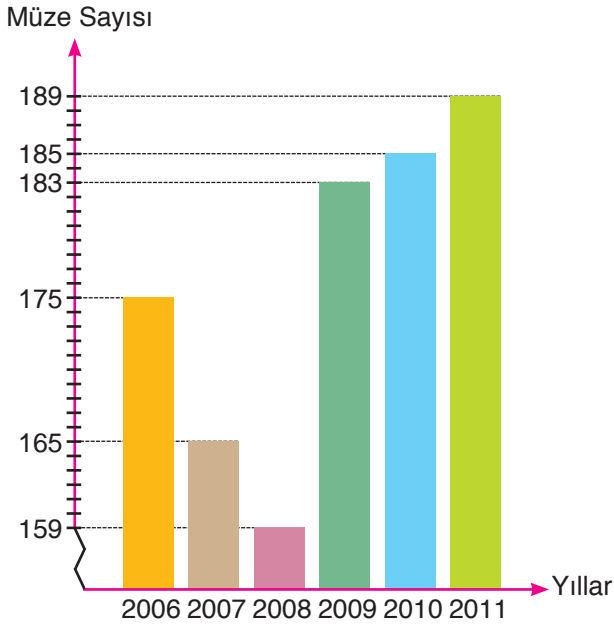


Grafik: Ülkemizdeki Müze Sayıları



1,2 ve 3. soruları yukarıdaki grafiğe göre cevaplayınız.

1. Grafiğe göre müze sayılarındaki bir önceki yıla göre artış en fazla hangi yıl gerçekleşmiştir?

- A) 2007 B) 2009
C) 2010 D) 2011

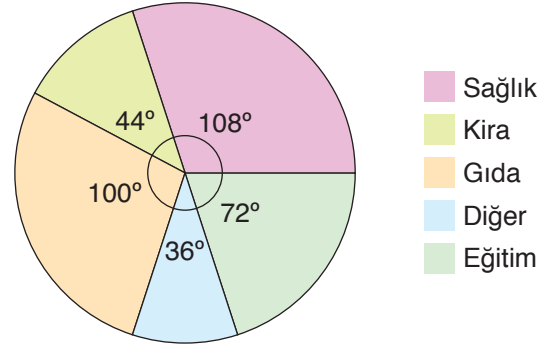
2. Müze sayılarının en fazla ve en az olduğu yıllarda müze sayılarının farkı kaçtır?

- A) 6 B) 24 C) 26 D) 30

3. Müze sayılarında hangi yıl bir önceki yıla göre değişim en az olmuştur?

- A) 2011 B) 2010
C) 2008 D) 2007

Grafik: Bir Ailenin Aylık Harcamaları



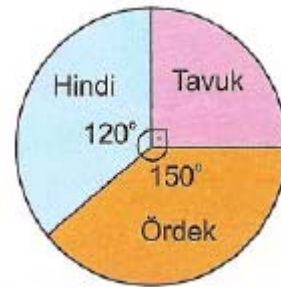
4 ve 5. soruları yukarıdaki grafiğe göre cevaplayınız.

4. Grafiğe göre sağlık için 540 TL harcayan bir ailenin gıda harcaması kaç TL'dir?

- A) 400 B) 460 C) 500 D) 520

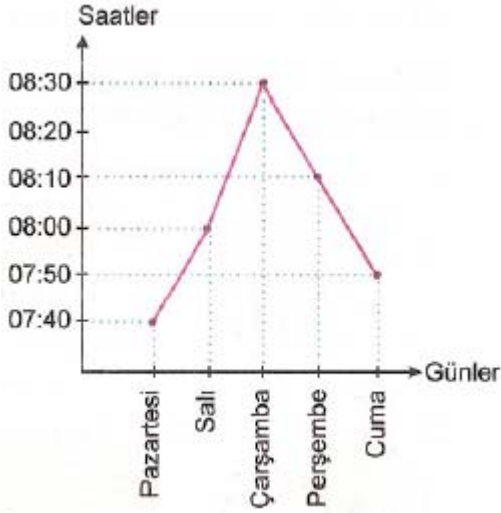
5. Ailenin aylık geliri 1800 TL ise kirası ne kadardır?

- A) 220 B) 260 C) 280 D) 320



6. Yukarıda bir kümesteki hayvanların dağılımını gösteren daire grafiği verilmiştir. Kümeste toplam 60 tane hayvan olduğuna göre tavukların sayısı kaçtır?

- A) 9 B) 12 C) 15 D) 20



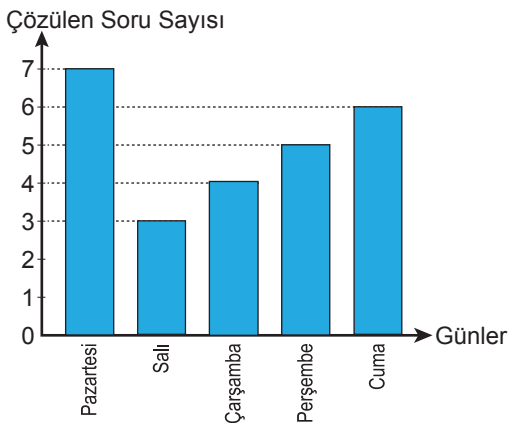
7 ve 8. soruları yukarıdaki grafiğe göre cevaplayınız.

7. Yukarıdaki grafikte bir kişinin işe geldiği saatler gösterilmiştir. İşin başlama saatinin 08.00 olduğu bu şirkette işe geç gelinen her dakika için 1 TL ceza, erken gelinen her dakika içinde 2 TL ödül verilmektedir. Grafiğe göre bu kişinin 5 gün sonundaki ödül-ceza durumu ne olur?

- A) 20 TL ceza B) 40 TL ödül
C) 40 TL ceza D) 20 TL ödül

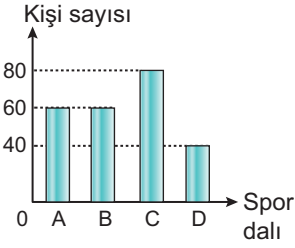
8. Aşağıdaki grafikte bir öğretmenin 5 gün boyunca derste çözdüğü soruların günlere dağılımı verilmiştir. Buna göre öğretmen günlük ortalama kaç soru çözmüştür?

Grafik: Çözülen Soru Sayısının Günlere Göre Dağılımı



- A) 3 B) 4 C) 5 D) 6

Grafik: Öğrencilerin Spor Dallarına Göre Dağılımı



- A: Futbol B: Basketbol
C: Voleybol D: Hentbol

9, 10 ve 11. soruları yukarıdaki grafiğe göre cevaplayınız.

9. Grafiğe göre okuldaki öğrenci sayısı kaçtır?

- A) 180 B) 200 C) 220 D) 240

10. Futbol ve hentbol oynayan öğrencilerin sayılarının toplamı kaçtır?

- A) 100 B) 120 C) 140 D) 160

11. En çok ve en az tercih edilen spor dalları arasındaki fark kaçtır?

- A) 20 B) 40 C) 60 D) 80