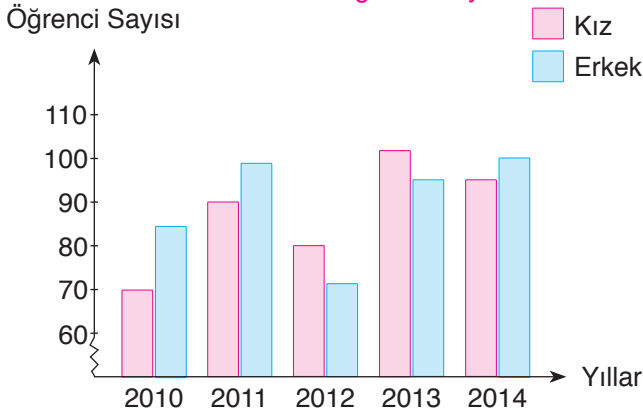


2010 - 2014 Yılları Arasında Okula Kaydedilen Kız ve Erkek Öğrenci Sayısı



1,2 ve 3. soruları yukarıdaki grafiğe göre cevaplayınız.

1. Grafiğe göre en fazla öğrenci hangi yıl kayıt edilmiştir?

- A) 2010 B) 2011
C) 2013 D) 2014

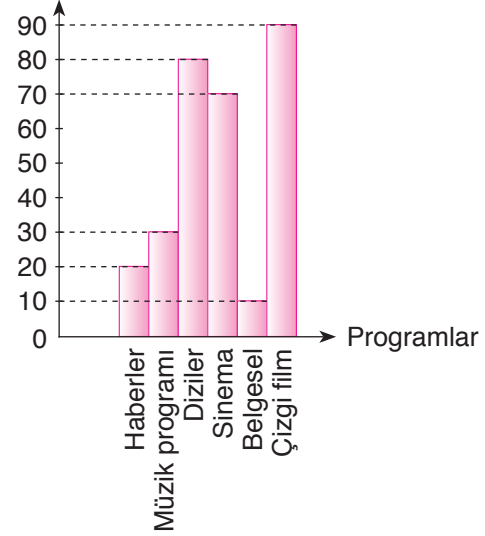
2. Kayıt edilen kız ve erkek öğrenci sayıları arasındaki fark en fazla hangi yıldır?

- A) 2010 B) 2011
C) 2012 D) 2013

3. Hangi yılda kayıt edilen erkek öğrenci sayısı bir önceki yıla göre azalmıştır?

- A) 2011 B) 2012
C) 2013 D) 2014

Kişi Sayısı Grafik: En Çok İzlenen Programlar



4. Yukarıdaki grafikte bir okuldaki öğrencilerin en çok izlediği televizyon programları gösterilmiştir. Buna göre bu okulda toplam kaç öğrenci vardır?

- A) 290 B) 300 C) 330 D) 350

5. Ankara'da son 15 günlük hava sıcaklığının değişimi grafikte gösterilecektir. Bu gösterim için en uygun grafik aşağıdakilerden hangisidir?

- A) Sütun Grafiği B) Şekil Grafiği
C) Çizgi Grafiği D) Daire Grafiği

6. Cumhuriyet Ortaokulu'ndaki öğrencilerin en sevdiği dersler grafik ile gösterilecektir. Bu gösterim için en uygun grafik aşağıdakilerden hangisidir?

- A) Sütun Grafiği B) Şekil Grafiği
C) Çizgi Grafiği D) Daire Grafiği

Tablo: 2009 Yılında Orman Yangınlarının Çıkış Nedenleri

Orman Yangınlarının Çıkış Nedenleri	Orman Yangını Sayısı
Kasıt	100
İhmal ve Dikkatsizlik	1000
Yıldırımlar	300
Nedeni Bilinmeyen	400

7 ve 8. soruları yukarıdaki grafiğe göre cevaplayınız.

7. Tabloya göre oluşturulan daire grafiğinde ihmal ve dikkatsizlik için gösterilen dilimin açısı kaç derece olur?

- A) 200 B) 150 C) 100 D) 80

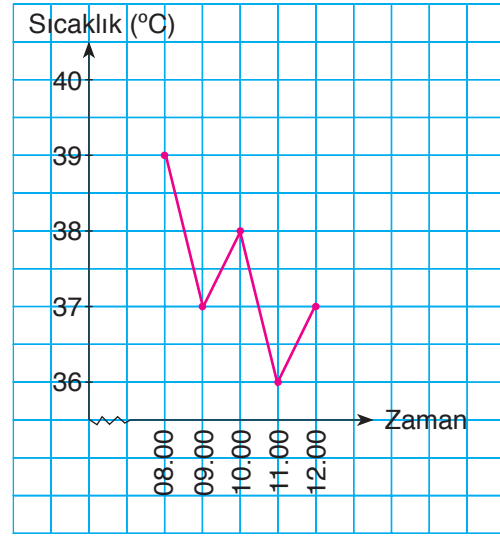
8. Oluşturulan daire grafiğinde kasıt ve yıldırımlar için gösterilen dilimlerin toplamı kaç derecedir?

- A) 200 B) 150 C) 100 D) 80

9. Ayşe, Ayça ve Aylâ yıl boyunca matematik dersinden aldıkları en yüksek ve en düşük notları grafik ile göstereceklerdir. Bu gösterim için en uygun grafik aşağıdakilerden hangisidir?

- A) Sütun Grafiği B) Şekil Grafiği
C) Çizgi Grafiği D) Daire Grafiği

Grafik: Hastanın Vücut Sıcaklığındaki Değişim



10, 11 ve 12. soruları yukarıdaki grafiğe göre cevaplayınız.

10. Grafiğe göre hastanın en yüksek vücut sıcaklığı ile en düşük vücut sıcaklığı arasındaki fark kaç derecedir?

- A) 1 B) 2 C) 3 D) 4

11. 09.00 ve 12.00 saatlerindeki vücut sıcaklığındaki fark kaç derecedir?

- A) 3 B) 2 C) 1 D) 0

12. En yüksek vücut sıcaklığı ile en düşük vücut sıcaklığı arasında kaç saat fark vardır?

- A) 4 B) 3 C) 2 D) 1