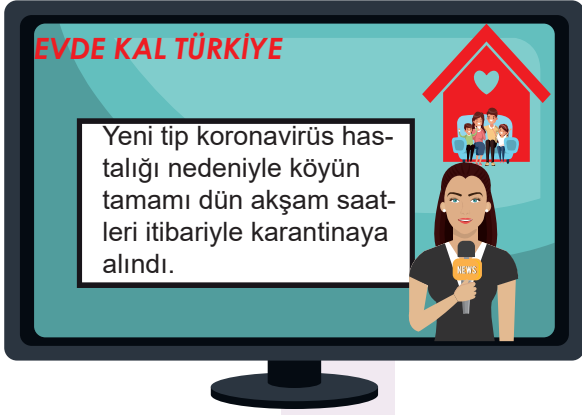


Adı-Soyadı: Sınıf: Numara:

1.



Yeni tip koronavirüs hastalığı (COVID-19) yüzünden karantina alınan çiftçi Veyssel Bey'in köyüne giriş ve köyden çıkışlar yasaklanmıştır.

Köye giriş ve köyden çıkışların yasaklanması, Veyssel Bey'in öncelikle hangi özgürlüğünün sınırlandığını gösterir?

- A) Seyahat özgürlüğünün
- B) Çalışma hakkı ve ödevinin
- C) Düşünce özgürlüğünün
- D) Haberleşme özgürlüğünün

2.

Martin Luther

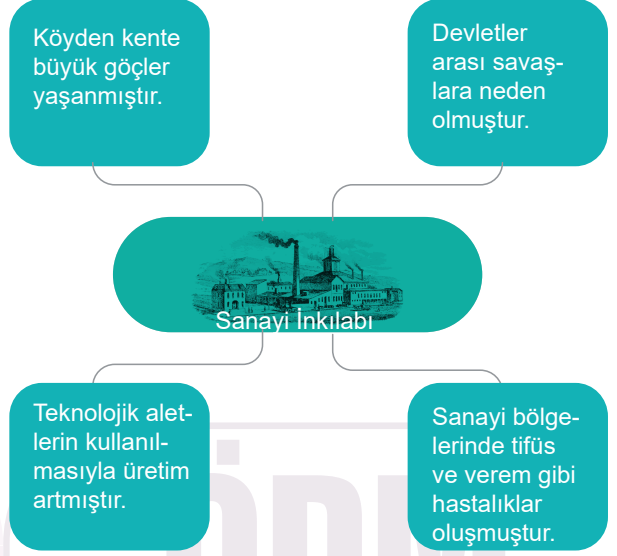


"Tanrı ile insanlar arası-
na kimse girmemelidir.
Din adamlarının insanları
bağışlama yetkisi yoktur.
Kilise, haksız yere elde
ettiği topraklardan vazgeç-
meli ve böylece kendini
düzeltmelidir."

Martin Luther bu düşünceleriyle aşağıdakilerden hangisine karşı çıkmamıştır?

- A) Din adamlarının insanların günahlarını affetmesine
- B) Bilimsel çalışmaların yapılmasına
- C) Kilisenin haksız yere toprak sahibi olmasına
- D) Kilisenin sahip olduğu güce

3.



Verilen diyagramda Sanayi İnkılabı'nın hangi alandaki etkisi vurgulanmamıştır?

- A) Sağlık
- B) Ekonomik
- C) Siyasi
- D) Eğitim

4.

Türkiye'de nüfusun %85'i arazinin düz olduğu kıyı ve iç kesimlerdeki ovalarda toplanmıştır. Yüksek ve engebeli alanlarda ise tarım alanlarının sınırlı olması, ulaşım koşullarının elverişsiz olması gibi nedenlerden dolayı nüfus yoğunluğu azdır.

Verilen bilgilerde Türkiye'de nüfusun dağılışını etkileyen faktörlerden hangisine değinilmmiştir?

- A) Yer şekillerine
- B) Toprak türüne
- C) İklim özelliklerine
- D) Sanayi özelliklerine

5.

Osmanlı Devleti, Balkan Savaşları ve I. Dünya Savaşı'nda topraklarının bir kısmını kaybetti. Kaybedilen bu topraklarda yaşayan Türkler çeşitli baskılara dayanamayarak Anadolu'ya göç etmeye başladı. Bulgaristan'dan, Romanya'dan, Yunanistan'dan ve daha nice bölgelerden göçler oldu. Bu göçler 1990'lı yıllara kadar devam etmiştir.

Gazi Turgut Alp

Gazi Turgut Alp'in anlattıklarına göre, yapılan göçler hangisine örnek olarak gösterilebilir?

- A) Ekonomik nedenlerle yapılan göçlere
- B) Doğal afetlere bağlı olarak yapılan göçlere
- C) Siyasi nedenlerle zorunlu olarak yapılan göçlere
- D) Akademisyenlerin yaptıkları beyin göçlerine

6.

İnsanı diğer varlıklardan ayırt eden özellik, düşünme ve düşündüklerini ifade etme gücüne sahip olmasıdır.

Aristo'nun bu sözünü,

- I. İnsanların çeşitli aletler icat ederek doğaya hükmetmesi
- II. İmzalanan sözleşmeler ile devletlerin, düşünce özgürlüğünü güvence altına alması
- III. Avrupa'da kilisenin pek çok bilim insanı ve düşünürü cezalandırması

verilen maddelerden hangileri desteklemektedir?

- A) Yalnız I.
- B) I ve II.
- C) II ve III.
- D) I, II ve III.

7. İnsanlık tarihinin en önemli buluşlarından biri matbaadır. Matbaa sayesinde yazılan bir eser kısa zamanda binlerce adet çoğaltılabilmektedir. Bu sayede kitap fiyatları ucuzlamış, insanlar farklı görüş ve düşünceleri yansıtan eserlere ulaşma imkanı elde etmiştir.

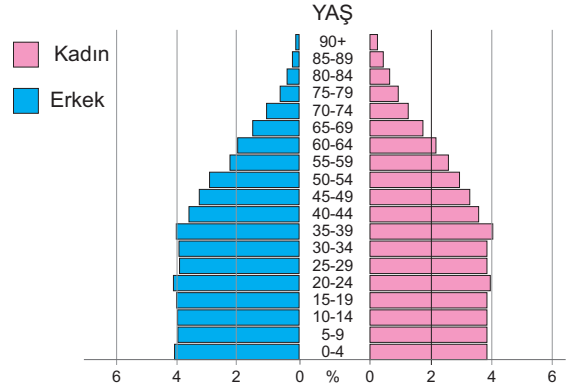
Bu bilgiye göre matbaanın bulunması ile ilgili

- I. Bilgi paylaşımını kolaylaştırmıştır.
- II. Herkese kitap yazma olanağı sağlamıştır.
- III. Düşünce özgürlüğünü sınırlandırmıştır.

yorumlardan hangisi ya da hangileri yapılabilir?

- A) Yalnız I.
- B) Yalnız II.
- C) I ve II.
- D) II ve III.

8.



Türkiye 2018 yılı nüfus piramidi incelendiğinde aşağıdakilerden hangisine ulaşılır?

- A) Kadın nüfusunun erkek nüfusuna oranı
- B) Çalışan nüfusun sektörel dağılımına
- C) Genç nüfusun eğitim durumuna
- D) Nüfusun bölgelere göre dağılımına

9.

1.	İstanbul ve önemli şehirlerde kütüphaneler açıldı.	a.	?
2.	İstanbul ve Selanik'te kumaş fabrikası kuruldu.	b.	Sanayi
3.	İlk çiçek aşısı yapıldı.	c.	Sağlık

Lale Devri'ndeki yeniliklerin ilgili olduğu alanlarla eşleştirilmesinde '?' işaretli yere aşağıdakilerin hangisi getirilmelidir?

- A) Askeri
- B) Turizm
- C) Kültürel
- D) Ulaşım

10.

Fatih Sultan Mehmet tarafından İstanbul'a davet edilerek çalışmalarını burada sürdürmüştür.

Matematik ve astronomi alanında önemli çalışmaları olmuştur.



Bilim insanı ve hükümdar olan Uluğ Bey'in öğrencisi olmuştur.

İstanbul'un enlem ve boylamını hesaplayarak çeşitli güneş saatleri yapmıştır.

Özellikleri verilen bilim insanı aşağıdakilerden hangisidir?

- A) El-Harezmi
- B) İbn-i Haldûn
- C) Kâtip Çelebi
- D) Ali Kuşçu

11. Türk ve Müslüman bilginlerin en fazla ilgilendiği alanlardan biri astronomi olmuştur. Müslümanların ibadetlerini yılın belli günlerinde veya günün belli vakitlerinde yapmalarının zorunlu olması gibi nedenler, Müslüman bilginlerin astronomiye yönelmelerinde etkili olmuştur.

Bu bilgilere bakarak aşağıdaki yargılardan hangisine ulaşılabilir?

- A) Bütün dinler astronomiye önem vermiştir.
- B) Dini ihtiyaçlar astronomiye verilen önemi arttırmıştır.
- C) Her Müslüman'ın astronomi ile ilgilenmesi gerekmektedir.
- D) Müslüman olmayan diğer toplumlar astronomiye önem vermemiştir.

12. Etkili iletişim kurabilmenin püf noktalarından biri de kitap okumaktır. Okuma alışkanlığı kazanmış bireylerin iletişim konusunda daha avantajlı olduğu görülmektedir.

Buna göre etkili iletişim kurmada kitap okumanın kişiye sağladığı faydalar arasında aşağıdakilerden hangisi bulunmaz?

- A) Kendisini daha iyi ifade edebilir.
- B) Olayları daha objektif bir şekilde yorumlayabilir.
- C) Kalıplaşmış düşüncelere sahip olur.
- D) Kullandığı kelime çeşitliliği artar.

13. Osmanlı Devleti'nin kısa sürede büyüüp gelişmesine etki eden birçok faktör vardır.

Aşağıdakilerden hangisi Osmanlı Devleti'nin kısa sürede büyümesini sağlayan dış faktördür?

- A) Yetenekli padişahların varlığı
- B) Hoşgörülü bir politikanın izlenmesi
- C) Bizans'ın iç karışıklıklar yaşaması
- D) İskan politikasının başarıyla uygulanması

14. • Tarımsal üretimin başlaması
• Toplum düzenini sağlayan kuralların oluşturulması
• Köylerin kurulması
• Ticari faaliyetlerin başlaması

Verilen bilgiler aşağıdaki olayların hangisinin sonuçlarını içermektedir?

- A) Göç hareketlerinin
- B) Yazının bulunmasının
- C) Paranın icat edilmesinin
- D) Yerleşik yaşama geçilmesinin

15. Osmanlı Devleti'nde toprak yönetimine genel olarak "tımar sistemi" adı verilmektedir. Bu sistemde toprağın sahibi devlettir. Çiftçinin vermekle yükümlü olduğu vergiyi devlet değil, devlet adına maaş karşılığı bir görevli alırdı. 17. yüzyıla gelindiğinde tımar sisteminin önemini kaybetmesi sonucunda Osmanlı Devleti eyaletlerin vergi gelirlerini açık arttırma yöntemi ile satarak gelir elde etmeye çalışmıştır.

Bu durum;

- I. Tarım
- II. Eğitim
- III. Mimari

faaliyetlerden hangisini veya hangilerini olumsuz etkilemiştir?

- A) Yalnız I.
- B) Yalnız II.
- C) I ve III.
- D) II ve III.

16. Bundan 20 – 30 yıl önce insanlar bulaşıklarını elde yıkardı. Bu da çok fazla emek ve iş gücü demekti. İnsanlar zamanlarının büyük kısmını bu işlere ayırırdı. Günümüzde öyle mi? Artık yıkanacak malzemeleri makineye atıp gerekli deterjanı koyduktan sonra bir tuşa dokunmak yeterli oluyor.

Parçada sözü edilen değişimin temel nedeni hangisidir?

- A) Coğrafi Keşifler ile yeni yerlerin bulunması
- B) Üretim teknolojisinin gelişmesi
- C) Tarımsal ürünlerdeki verimin artması
- D) İletişim alanında gelişmeler yaşanması

17. Osmanlı Devleti, fethettiği bölgelerde yaşayan Müslüman olmayan halka inançlarında ve ibadetlerinde özgürlük tanımış, geleneklerine ve yaşantılarına karışmamıştır.

Osmanlı Devleti'nin bu tutumunun amacı aşağıdakilerden hangisidir?

- A) Azınlıkları İslamiyet'i seçmeye zorlamak
- B) Ordunun asker ihtiyacını karşılamak
- C) Vergi gelirlerini arttırmak
- D) Gayrimüslim halkın devlete bağlılığını arttırmak

18.

Boyumuz Kayı'nın bağlı olduğu Türkiye Selçuklu Devleti hükümdarı Alâeddin Keykubad, beni Bizans İmparatorluğu'na karşı fetihler yapmam için görevlendirdi.

Ertuğrul Gazi

Ertuğrul Gazi'nin açıklamalarından yola çıkarak Osmanlıların toprak fethetmesinde, büyümesinde ve devletleşmesinde etkili olan anlayış aşağıdakilerden hangisidir?

- A) Gaza ve Cihat Anlayışı
- B) İskan Politikası
- C) İstimalet Politikası
- D) Tımar Sistemi

19. Aşağıdaki cümlelerden hangisi sözlü iletişime örnek olarak gösterilebilir?

- A) Arkadaşına kızdığı için evdeki çocuğun masadaki vazoyu devirmesi
- B) Takımında komik bir olay olduğu için futbolcunun kahkahayla gülmesi
- C) Eve geç kaldığı için annenin kızarak oğluna bir daha geç kalmamasını söylemesi
- D) Çırağına kızan ustanın işaret parmağını çırağa doğru sallaması

Çalışmada Emeği Geçen Öğretmenlerimiz

Havva KAPTAN

Serdar BALCI

Fatih ERDOĞAN

İlkay AKIN

Ersin AYVAZOĞLU

Yalçın İNCE

Tuğba ÖZKAN

Bu çalışma Isparta İl Millî Eğitim Müdürlüğü Ölçme Değerlendirme Merkezi tarafından hazırlanmıştır.