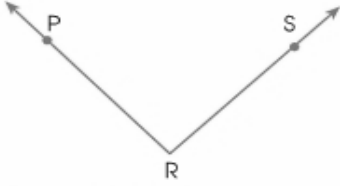


- 1-)  $91^\circ$   $15^\circ$   $70^\circ$   
 $105^\circ$   $65^\circ$   $100^\circ$   
 $90^\circ$   $89^\circ$   $35^\circ$

Yukarıda verilen açılardan kaç tanesi dar açıdır?

- A) 4 B) 5 C) 6 D) 7

2-)



Aşağıdakilerden hangisi yukarıdaki açının gösterimi olamaz?

- A.  $\widehat{PRS}$  B.  $\widehat{PSR}$   
 C.  $\widehat{SRP}$  D.  $\widehat{R}$

3-)



Yukarıdaki saat tam 4'ü gösterirken akreple yelkovan arasındaki açının çeşidi ne olur?

- A. Dar Açı B. Dik Açı  
 C. Geniş Açı D. Tam Açı

4-) En büyük geniş açı ile bir dik açının ölçüleri farkı aşağıdakilerden hangisidir?

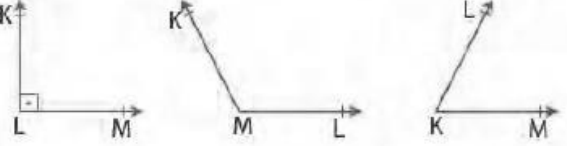
- A) 90 B) 89 C) 88 D) 87

- 5-)  $m(\widehat{ABC}) = 78^\circ$   
 $m(\widehat{DEF}) = 72^\circ$   
 $m(\widehat{KLM}) = 99^\circ$   
 $m(\widehat{NPT}) = 89^\circ$

Yukarıda ölçüsü verilen açılardan hangisi çeşidi bakımından diğerlerinden farklıdır?

- A)  $\widehat{ABC}$  B)  $\widehat{DEF}$  C)  $\widehat{KLM}$  D)  $\widehat{NPT}$

6-)



Yukarıda verilen açılara göre, aşağıdakilerden hangisi yanlıştır?

- A)  $\widehat{MLK}$  dik açıdır. B)  $\widehat{L}$  dar açıdır.  
 C)  $\widehat{KML}$  geniş açıdır. D)  $\widehat{K}$  dar açıdır.

7-)

Aşağıdaki harflerden hangisinin çiziminde farklı bir açı çeşidi kullanılmıştır?

- A. H B. T  
 C. E D. K

8-) Aşağıdaki saatlerden hangisinde akrep ile yelkovan arasındaki açı  $180^\circ$  olur?

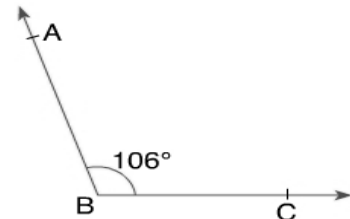
- A. 03.45 B. 09.15  
 C. 12.30 D. 18.00

9-)

- I. Dar açının ölçüsü dik açının ölçüsünden azdır.  
 II. Doğru açı ile tam açının ölçüsü aynıdır.  
 III. Tam açı  $360^\circ$  dir.  
 IV. Geniş açının ölçüsü  $180^\circ$  dir.  
**Verilen ifadelerden hangileri doğrudur?**

- A) I ve II B) I ve III  
 C) II ve IV D) III ve IV

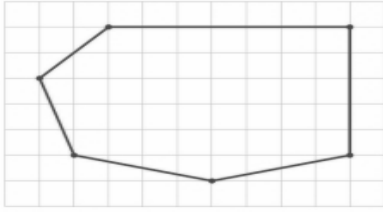
10-)



Şekildeki açının ölçüsü en az kaç derece azaltılırsa, bir dar açı elde edilir?

- A) 17 B) 16 C) 15 D) 14

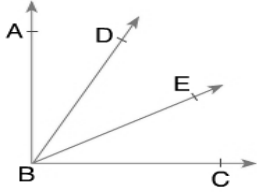
11-)



Yukarıdaki şekilde kaç tane geniş açı vardır?

- A. 3 B. 4 C. 5 D. 6

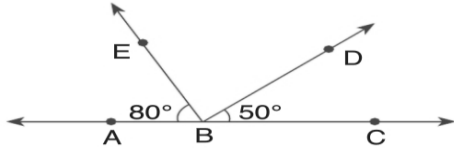
12-)



ABC açısı bir dik açı olduğuna göre, yukarıdaki şekilde kaç tane dar açı vardır?

- A) 3 B) 5 C) 6 D) 7

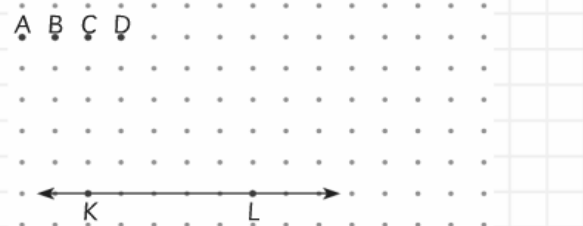
13-)



Yukarıda verilen şekile göre, aşağıdakilerden hangisi yanlıştır?

- A)  $\widehat{EBD}$  ile  $\widehat{DBC}$ 'nin ölçüleri birbirine eşittir.  
B)  $\widehat{ABE}$ , dar açıdır.  
C)  $\widehat{EBC}$ , geniş açıdır.  
D)  $\widehat{ABD}$ 'nin ölçüsü  $180^\circ$ 'dir.

14-)



Yukarıdaki noktali kağıtta verilen KL doğrusundaki K noktası hangi nokta ile birleştirilirse, dar açı elde edilir?

- A) A B) B C) C D) D

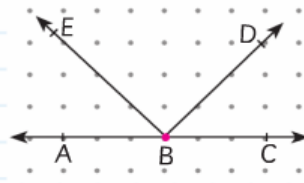
15-) Bir geniş açı ile bir dar açının ölçüsünün farkı en az kaç derecedir?

- A) 2 B) 3 C) 4 D) 5

16-) Açıların ölçüsünü ne ile ölçeriz?

- A) Cetvel B) İletki C) Pergel D) Metre

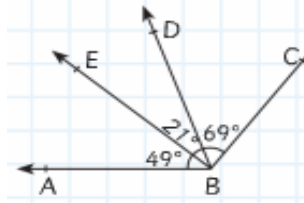
17-)



Yanda noktali kağıtta verilen şekle göre, aşağıdakilerden hangisi geniş açıdır?

- A)  $\widehat{EBD}$  B)  $\widehat{ABD}$  C)  $\widehat{CBD}$  D)  $\widehat{ABE}$

18-)



Yanda verilen şekle göre, aşağıdakilerden hangisi dik açıdır?

- A)  $\widehat{ABE}$  B)  $\widehat{DBC}$  C)  $\widehat{EBC}$  D)  $\widehat{ABD}$

19-) Saat 03.00 gösterdiğinde akrep ile yelkovan arasındaki açının çeşidi aşağıdakilerden hangisidir?

- A) Dar B) Dik  
C) Geniş D) Doğru

20-) Aşağıdaki ifadelerden kaç tanesi yanlıştır?

- I. Açı ölçü birimi derecedir.  
II. Açı üç harfle okunurken, köşedeki harf ortaya getirilir.  
III. Açının kenarlarını uzatırsak derecesi büyür.  
IV. Dar açılar en fazla  $91^\circ$  dir.  
V. Bir açının ölçüsü  $120^\circ$  ise bu açı dar açıdır.  
A) 2 B) 3 C) 4 D) 5

YUSUF AKGÜMÜŞ

ADI - SOYADI :

SINIFI :

NO:

A B C D

1 ○○○○

2 ○○○○

3 ○○○○

4 ○○○○

5 ○○○○

6 ○○○○

7 ○○○○

8 ○○○○

9 ○○○○

10 ○○○○

A B C D

11 ○○○○

12 ○○○○

13 ○○○○

14 ○○○○

15 ○○○○

16 ○○○○

17 ○○○○

18 ○○○○

19 ○○○○

20 ○○○○

■ Başarılar... ■