

BİLGİ ÖLÇER

DENEMELERİ

ADI

SOYADI

OKULU

SINIFI

-1-

SÖZEL

A

KİTAPÇIK



8

.SINIF


1. Türk Dil Kurumunun e-sözlüğünde yer alan "terlik" sözcüğüyle ilgili bazı açıklamalar aşağıda verilmiştir.

Terlik

Genellikle ev içinde giyilen, deri, naylon vb. şeylerden yapılan, arkası açık, hafif ve türlü biçimlerde ayak giysisi:

"Bu sıcak mevsimde tozlu ve yün terliklerini sürüyerek gidiyor."

"terlik" Sözcüğünün Parmak Alfabetiyle Gösterilişi



t
e
r
l
i
k

Buna göre "terlik" sözcüğünün açıklamalarında, sözlüklerde bulunması beklenen;

- I. Sözcüğün, içinde kullanılan deyim ve atasözlerine yer verilmesi,
- II. Sözcüğün ortaya çıktığı dil ve o dildeki hâli ile ilgili bilgi verilmesi,
- III. Sözcüğün tanımlanması ve tanıma uygun örneklendirilmesi,
- IV. Sözcüğün işitme engellilere yönelik gösterilmesi

niteliklerinden hangileri örneklenmemiştir?

- A) I ve II. B) I ve IV. C) II ve III. D) III ve IV.

2. • Kişisel yargılar içerir.
• Kanıtlanabilir düşünceler değildir.
• Kişiden kişiye değişen yargılardır.


Aşağıdaki metinlerden hangisi bu anlatım özelliklerine sahip değildir?

- A) Oktay Rıfat Horozcu; dili kullanma yeteneği, açık sözlü üslubu ve ortaya attığı yenilikleri ile modern Türk edebiyatının en önemli isimlerinden biri olmuştur. Hem roman hem de oyun yazarlığı yapan ünlü isim, şair ve avukat olarak da tanınmış; çok yönlü kişiliğiyle girdiği her alanda fark yaratmıştır.
- B) 250 bin metrekarelik bir sahaya kurulmuş olan Dolmabahçe Sarayı'nın 64.120 metrekare büyüklüğünde oturma alanı bulunmaktadır. Bazı kaynaklara göre ise bu alanın 110 bin metrekare olduğu belirtilmektedir. Sarayın bu kısmında tiyatro, cami, serasker dairesi, hazine-i hassa ve mefruşat daireleri mevcuttur.
- C) Yetişkin bir sincabın boyu yaklaşık olarak 25-30 cm aralığındayken kuyruklarının boyu 15-25 cm aralığında değişiklik göstermektedir. Sincaplar her ne kadar tüm görsellerde aklımıza kazınan hâlleri ile sürekli bir şeyler yiyor görünseler de şaşkırtıcı derecede hafif hayvanlardır.
- D) Albert Einstein, herkesi şaşkırtan muhteşem zekâsıyla zaman zaman beyin yapısı merak edilmiş, öldükten sonra incelenen beyninde herhangi bir farklılık olmadığı görülmüştür. Bilim insanı olmasının yanı sıra aynı zamanda bir aydındır. Evreni ve dünyayı anlamamızı sağlamış, hayatımıza bambaşka bir boyut getirmiştir.

3. (I) Sanat bize insan ruhunun devinimlerini, tüm derinlikleri ve çeşitlilikleriyle verir. (II) Ama bu devinimlerin biçim, ölçü ve ritimleri herhangi bir tek duygu durumu ile karşılaştırılmaz. (III) O, yaşamın kendisinin devingen bir süreci, neşe ve keder, ümit ve korku, sevinç ve umutsuzluk gibi karşıt kutuplar arasında sürekli bir gidip gelmedir. (IV) Duygularımıza estetik bir biçim vermek, onları özgür ve etkin bir duruma sokmak demektir.

Bu metinde numaralanmış cümlelerin hangisinde düşüncenin yönünü değiştiren ifadelere yer verilmiştir?

- A) I. B) II. C) III. D) IV.
4. Bilgisayar karşısında geçirilen uzun saatler, bel ve boyun ağrılarında şikâyet edenlerin sayısını her geçen gün biraz daha artırmaktadır. Bu şikâyetlerin temelinde genellikle duruş bozukluğu yer almaktadır. Yanlış pozisyonda oturma, yatma veya çalışma alışkanlığı zamanla duruş bozukluklarının oluşmasına neden olur. Bunda özellikle bilgisayar başında dik oturmamak yer alıyor. Ayrıca gelişme çağındaki çocukların ağır çantalarla okula gidip gelmesi de bu soruna yol açar. Bu nedenle sırt çantalarının tek omuzda değil, iki omuzda taşınması gerekir. Aynı zamanda yerden bir yük kaldırırken dizler bükülerek bacaklardan güç alınmalıdır.



Bu açıklamaya göre numaralanmış görsellerden hangisi ya da hangileri duruş bozukluğuna yol açar?

- A) Yalnız I. B) Yalnız III.
C) I ve III. D) II ve III.

5. I. Yoklamak, incelemek, denemek
II. Bir işi yapmak, bir işi yapmakla görevli olmak
III. Uğraşmak, meşgul olmak

“Bakmak” sözcüğü aşağıdaki cümlelerin hangisinde numaralanmış anlamlarından herhangi biriyle kullanılmamıştır?

- A) Çocuğum, sen dersine bak da ben bunları hallederim.
B) Pasaport işlerine artık polis bakmayacak, kaymakamlığa gitmelisiniz.
C) Git bak da evdelerse beni çağır, beraber gidelim.
D) Evin bütün işleri bana baktığı için rahatsız oluyorum.

6. Ülkemizde her gün birçok hasta, tedavisinde kullanılmak üzere kan bağıışı bekliyor. Bu nedenle sağlık açısından bir engeli olmayan insanların gerektiğinde kan bağıışında bulunması çok önemlidir. Kan bağıışlamanın sağlığa herhangi bir zararı yoktur. Hatta kan veren kişinin kan hücreleri yenilediği için kişi daha sağlıklı olur. Üstelik tanımadığı bir kişinin hayatını kurtarmak bağıışçıyı mutlu eder. Kan bağıışı aynı zamanda toplumsal dayanışmayı da sağlar. Bu açıdan kan bağıışı hem birey hem de toplum açısından çok önemlidir.

Bu metinden hareketle kan bağıışıyla ilgili aşağıdakilerden hangisi söylenemez?

- A) Kan bağıışı yapan kişi önceki durumuna göre daha sağlıklı hâle gelir.
B) Ülkemizde birden çok hasta kan bağıışı beklemektedir.
C) Sağlığı ne durumda olursa olsun her birey kan bağıışında bulunabilir.
D) Kan bağıışının sağlık açısından zararı bulunmamaktadır.

7. Aşağıdaki dörtlüklerin hangisinde yay ayraç içinde verilen söz sanatı yoktur?

A) Şimdi bir rüzgâr geçti buradan
Koştum ama yetişemedim.
Nerelerde gezmiş tozmuş
Öğrenemedim.
(Kişileştirme)

B) Sonra başlamış tırmanmaya dağlara doğru
Bulutları koyun gibi gütmüştür,
Okşayıp otları yaylalarda
Büyütmüştür.
(Benzetme)

C) Köylere de uğradıysa eğer
Islak, karanlık odalarda beşik sallamıştır.
Güneş aydınlığında çalışanlara
İmdat eylemiştir.
(Tezat)

D) Besbelli denizden çıkıp
Kıyıları boyunca gitmiştir.
Tuz kokusu, katran kokusu, ter kokusu
Yüreğini harekete geçirmiştir.
(Abartma)

8. Fransız İhtilali'nin yaydığı milliyetçilik fikri, bir yandan azınlık isyanlarına diğer yandan da bir kısım Osmanlı aydınlarında Türkçülük fikrinin doğmasına zemin hazırladı. Bu fikri savunan aydınlar, Türk toplulukları arasındaki iş birliğinin geliştirilmesine önem veriyorlardı. Mehmet Emin (Yurdakul), Ziya Gökalp gibi aydınlarca savunulan bu fikir, azınlıkların ayrılmasıyla daha da güçlendi. Türkçülük fikri, Millî Mücadele'nin kazanılmasında da en önemli etkenlerden biri oldu.

Bu metnin dil ve anlatımıyla ilgili aşağıdakilerden hangisi söylenemez?

A) Deyim kullanılmamıştır.

B) Bilgi vermek amacıyla yazılmıştır.

C) Mecaz anlamı sözcüğe yer verilmiştir.

D) Karşılaştırma yapılmıştır.

9. Bir hikâyede olayın yaşandığı dönem, an, mevsim ya da gün; o hikâyenin "zaman" unsuru olur.

Buna göre aşağıdaki hikâyelerin hangisinde "zaman" unsuru belirgin değildir?

A) Akdeniz'in esatir yuvası nihayetsiz ufuklarına bakan küçük tepe, mini mini bir çiçek ormanı gibiydi. İnce, uzun dallı badem ağaçlarının alaca gölgeleri sahile inen keçi yoluna düşüyor, ilkbaharın tatlı rüzgârıyla sarhoş olan martılar, çılğın naralarla havayı çınlatıyorlardı.

B) Beyaz giysili, aydınlık yüzlü kalfa kasanın başındaydı. Tezgâhın ardında duran ince bıyıklı, şık giysili, zayıf, orta yaşlı bayın dükkânın sahibi olduğu anlaşılıyordu. Çevrede açılış nedeni ile gelmiş bir iki sepet çiçek gözüne ilişti. Dükkân sahibi bay da sepetlerden birinden bir beyaz karanfil almış, yakasına ilişti.

C) Gazi Paşa; konağın merdivenlerini çıkmış, millet işlerini görmeye gitmişti. Salih Efe'nin dizlerinin bağı hâlâ çözüktü. Yerden bastonunu almış, gelmiş, kaldırımın kenarına oturmuştu. Halk dağılıyordu yavaş yavaş ama yeni yeni insanlar koşuyordu sağdan soldan paşayı görmek için akşamın alacakaranlığında.

D) Geceye doğru yazı masamın üstüne koymak için bir demet sümbül almaya yeniden dışarıya çıktığımda yolun altındaki eczanenin ışıklarının yandığını gördüm. Vitrin açılmıştı. Kırmızı neon ışıkları ile yazılmış eczane adı pırl pırl parlıyordu.

10. Ay ve gün adları belirli bir gün bildiriyorsa büyük harfle, bildirmiyorsa küçük harfle başlar.

Bu açıklamaya göre,

- I. 2017'de tanıştığım Suzan ile bu yılın Nisan ayında evlenmeye karar verdik.
- II. Ünlü yönetmenin yeni filmi 2020'nin Ocak ayında gösterime girecek.
- III. Merakla beklenen kitap fuarı 2 Kasım pazartesi günü kapılarını açıyor.

cümlelerinin hangilerinde yazım yanlış yapılmıştır?

- A) Yalnız I B) I ve II.
C) I ve III. D) II ve III.

11. I. Köpeklerden biri beyaz, biri siyahtı.
II. Dedesinin sürekli göz önünde tuttuğu, yanından ayırmadığı iki iri köpekti bunlar.
III. Yaşlı adam, kulübesinin önünde torunuyla oturmuştu.
IV. Çocuk, kulübeyi korumak için biri yeterli görünürken niye ötekinin de olduğunu ve niye renklerinin illa da siyah ve beyaz olduğunu anlamak istiyordu artık.
V. On iki yaşındaki çocuk kendini bildi bileli, o köpekler dedesinin kulübesi önünde boğuşup duruyorlardı.
VI. O merakla sordu dedesine ve dedesi de bilgece bir gülümsemeye torununun sırtını sıvazladı ve torununun merakını giderdi.
VII. Beraber, az ötede birbiriyle boğuşup duran iki köpeği izliyorlardı.

Numaralanmış cümleler anlam akışına göre sıralandığında doğru sıralama aşağıdakilerden hangisi olur?

- A) III – I – VII – IV – V – II – VI
B) III – VII – I – V – II – IV – VI
C) V – VII – I – II – VI – III – IV
D) IV – III – II – I – V – VII – VI

12. • Umulmazken bir işten ya da kimseden kurtulmak, kaçmak
• Üzerine aldığı ağır bir işi başarmak
• Zaaflarından yararlanarak kandırmak, oyuna getirmek

Aşağıdakilerin hangisinde bu açıklamalardan herhangi birini karşılayan bir deyim kullanılmamıştır?

- A) Bizi kafaya almaya çalıştınız ama çok şükür gerçek yüzünüzü gördük.
B) Bu olaydan yakasını nasıl sıyırdı, hâlâ anlayabilmiş değilim.
C) Açığı kapatmak için epey gayret sarf etmek gerekir.
D) Babamın verdiği bu işi başarınca sırtımdan koca bir yük kalktı.

13. Devletler vatandaşların barışını, huzurunu, güvenini, refahını ve mutluluğunu sağlamak için çalışır. Türkiye Cumhuriyeti Devleti de kurulduğu günden bugüne vatandaşlarına karşı görev ve sorumluluklarını yerine getirmektedir. Devletimiz görev ve sorumluluklarını yasalarla yerine getirir. Bu yasaların temelini anayasa oluşturur. Anayasa, bir devletin dayandığı esasları gösteren temel kanundur. Bu temel kanun bütün kanunların üstündedir.

Bu metinde altı çizili cümlenin anlam özelliği aşağıdakilerden hangisidir?

- A) Neden – sonuç
B) Karşılaştırma
C) Koşul – sonuç
D) Amaç – sonuç

14.

EDANUR

Mustafa Kemal'in okuyup etkilendiği düşünürlerden biri "Vatan Şairi" olarak tanınan **Namık Kemal**'dir. Vatan sevgisi ve hürriyet gibi konuları coşkun bir şekilde işleyen Namık Kemal, genç Mustafa'nın kalbinde vatan sevgisi ve hürriyet aşkı gibi duyguların yerleşmesine yardımcı olmuştur. Mustafa Kemal meclis konuşmalarında Namık Kemal'in şiirlerinden de örnekler vermiştir.

ONUR

Mustafa Kemal'in fikirlerinin oluşumunda etkili olan düşünürlerden biri de **Mehmet Emin Yurdakul**'dur. "Ordunun Destanı" adlı şiirinde Mustafa Kemal'e de yer veren Yurdakul, eserlerinde vatan, millet ve millî birlik gibi kavramları yoğun bir şekilde işlemiştir. Mustafa Kemal hayatı boyunca bu duyguları kalbinde taşımıştır.

BEYZA

Mustafa Kemal'in fikirlerinden faydalandığı bir diğer düşünür **Ziya Gökalp**'tir. Ziya Gökalp'ın fikirleri, özellikle cumhuriyetin ilk dönemlerinde, devletin kültür politikaları belirlenirken etkili olmuştur. Bazı tarihçiler Atatürk'ün "Vücudumun babası Ali Rıza Efendi, fikirlerimin babası ise Ziya Gökalp'tir." dediğini ifade etmektedir.

Aşağıdakilerden hangisi bu metinlerin konusu olmaya en uygundur?

- A) Mustafa Kemal'in düşünce dünyasının oluşmasında etkili olan aydınlar
- B) Mustafa Kemal'in meclis konuşmalarında düşüncelerine en çok değindiği aydınlar
- C) Bazı aydınların Mustafa Kemal'in başarılarındaki katkıları
- D) Mustafa Kemal'e vatan sevgisini aşıl原因an aydınlar

15. I. Seslenme ve hitap için kullanılan sözcüklerden sonra konur.
 II. Tırnak içinde olmayan alıntı cümlelerinden sonra kullanılır.
 III. Kendisinden sonraki cümleye bağlı olarak ret, kabul ve teşvik bildiren sözcüklerden sonra kullanılır.

Aşağıdaki cümlelerden hangisinde virgül (,) numaralanmış işlevlerinin dışında kullanılmıştır?

- A) Çocuklar, lütfen sessizce beni dinleyin!
- B) Köylerin, mahallelerin ve beldelerin dönüşümü sağlanacak.
- C) Evet, şirketin yeni idari kadrosunda olacağım.
- D) Kendimi size anlatamadığım için özür dilerim, dedi.

16. Aşağıdaki metinlerden hangisi diğerlerinden farklı bir kişinin ağzından anlatılmıştır?

- A) Adam, bir anda durdu ve geriye döndü. Elindeki bir yığın parayı önünde duran kısa, çelimsiz, yırtık pırtık bir elbise giymiş, eli yüzü kir pas içindeki çocuğa uzattı.
- B) Yollar çakıl taşlarıyla döşeli, insanlar erkenden işlerinin başına geçiyor. Zaten temiz havada uyku da gelmiyor. Bu güzel köyde bir tek dere eksik.
- C) Sapsarı tarlaların arasında kurulu, şirin mi şirin bir köydeyiz. Kerpiç evler, düz damlar, geniş avlular, küçük bostanlar... Her evin önünde hayvanlar için yapılmış havuzlar var.
- D) Çocuğun gözleri parladı, ne yapacağını bilemedi. Adam da hiçbir şey demedi çocuğa. Sadece güldü ve önüne dönüp hızlı hızlı yürümeye başladı.

17. Sanat, "güzel doğayı" canlandırır. Ama eğer öykünme, sanatın gerçek amacı ise böyle herhangi bir "güzel doğa" kavramı, çok kuşku götürür bir kavramdır. Çünkü örneğimizi, biçimini değiştirmeksizin nasıl geliştirebiliriz? Nesnelerin gerçekliğini, doğruluğun yasalarını bozmaksızın nasıl aşabiliriz? Bu kuramın görüş açısına göre, genel olarak şiir ve sanat hoşla giden birer yanılmadan başka bir şey olamaz.

Bu metnin türü aşağıdakilerden hangisidir?

- A) Makale
B) Köşe yazısı
C) Eleştiri
D) Deneme

18. Fiil kök veya gövdelerine getirilen birtakım eklerle cümle içinde isim, sıfat ve zarf görevinde kullanılan sözcüklere fiilimsi denir.

Buna göre aşağıdaki dizelerin hangisinde fiilimsi kullanılmamıştır?

- A) Çılgınlık içinde can verdiği bu an,
N'olur, gözlerine geceler dolmadan,
- B) Dolaştığım denizlerce düşünüyorum,
Bineceğim son gemi değil midir?
- C) Senden istemiyordum ne tacı ne sarayı
Karnında yaşıyordum kafiydi saadetim.
- D) İnsanlar dalgasına tutulmuş bir gemiyim!
Sağa sola sallanıp, bakın, çırpınıyorum.

19. Bir sözcüğün aklımıza gelen ilk anlamına gerçek anlam, sözcüğün gerçek anlamından tamamen uzaklaşarak kazanmış olduğu yeni anlama ise mecaz anlam denir. Örneğin "sık-mak" sözcüğü "Salataya limon sık-mak faydalıdır." cümlesinde gerçek anlamda kullanılmışken "Ben sizi sık-mak istemem." cümlesinde ise mecaz anlamda kullanılmıştır.

Buna göre aşağıdaki cümlelerin hangisinde mecaz anlamı sözcük kullanılmamıştır?

- A) Sağ elini de kullanarak başımdaki şapkayı aldı.
- B) Evdekilerin hepsi bana sardığı için çok sıkılıyor.
- C) Öğretmen sürekli konuşuyor, beni açmaya çalışıyordu.
- D) Bütün gözlerle herkes etrafa ışıklar saçıyor.

20.

1910

11 Ekim'de Selanik'te dünyaya geldi.

Beşinci sınıftayken tanıştığı genç bir öğretmen sayesinde matematikle ilgilendi.

Lisede ise okul arkadaşlarının çözemediği matematik sorularını çözüyordu.

1932

Fransa'da yükseköğrenimini tamamladı.

1938

Almanya'nın Göttingen Üniversitesinde doktorasını bitirdi ve Türkiye'ye döndü.

İstanbul Üniversitesi Fen Fakültesinde profesör (1943) ve ordinarius profesörlüğe yükseldi (1955) ve 1963'e kadar üniversitede çalışmasını sürdürdü.

1963

Türkiye Bilimsel ve Teknik Araştırma Kurumunda ilk bilim kurulu başkanı oldu.

Sentetik geometri problemlerinin cetvel ve pergel yardımıyla çözülebilirliği konusunda çalışmalar yaptı.

"Arf Değişmezi" ve "Arf Halkaları" olarak anılan çalışmaların yanı sıra "Hasse-Arf Teoremi"ni de matematik bilimine kazandırdı.



CAHİT ARF

"Matematik esas olarak sabır olayıdır. Bellekerek değil, keşfederek anlamak gerekir."

Türk matematikçi ve bilim insanı Ord. Prof. Dr. Cahit Arf, cebir konusunda yaptığı çalışmalarda dünyaca ün kazandı. 10 liralık banknotta portresi yer alan Arf, vefatının 21. yılında anılıyor.

26 Aralık 1997

İstanbul'da hayatını kaybetti.

1983 - 1989

Türk Matematik Derneğinin başkanlığını yaptı.

1974

Matematiğe yapmış olduğu katkılardan dolayı TÜBİTAK Bilim Ödülü'ne layık görüldü.

Bu görselden hareketle Cahit Arf ile ilgili aşağıdakilerden hangisine ulaşılabılır?

- A) Ülkemizde başladığı eğitim hayatını yine ülkemizde tamamlamıştır.
- B) Uluslararası alanda birçok ödüle layık görülmüştür.
- C) TÜBİTAK'ın kurulmasında önemli katkılarda bulunmuştur.
- D) Matematik bilimine, özgün çalışmalarıyla katkıda bulunmuştur.

1. Azınlık isyanları devam ederken XIX. yüzyılın ortalarına doğru Osmanlı Devleti'nde aydın bir grup kendini göstermeye başladı. Fransız İhtilali ile dünyada yayılmaya başlayan hürriyet, eşitlik, adalet gibi fikirlerden etkilenen ve Jön Türkler olarak bilinen bu grup, azınlık isyanlarını önlemek için farklı bir fikir ortaya koydu. Jön Türklere göre azınlıkların isyan etmesinin temel nedeni, padişahın ülkeyi tek başına yönetmesiydi. Onlara göre azınlık isyanlarının önlenmesi için Avrupa'da olduğu gibi bir anayasa hazırlanmalı, meclis açılmalı, bu mecliste azınlıklara da temsil hakkı verilmeli ve padişah ülkeyi bu meclisle birlikte yönetmeliydi. Jön Türkler bu fikre katılmayan Padişah Abdülaziz'i tahttan indirdiler. Bir süre sonra, anayasa hazırlama ve meşrutiyet sistemine geçme sözü aldıkları birini padişah yaptılar.

Böylece tahta çıkan Osmanlı padişahı aşağıdakilerden hangisidir?

- A) II. Abdülhamit B) Vahdettin
C) V. Mehmet Reşat D) II. Abdülaziz

2. • Fransız İhtilali'nin yaydığı milliyetçilik fikri, bir yandan azınlık isyanlarına diğer yandan da bir kısım Osmanlı aydınlarında bu fikrin doğmasına zemin hazırladı.
- Bu fikri savunan aydınlar, Türk toplulukları arasındaki iş birliğinin geliştirilmesine önem veriyorlardı.
- Mehmet Emin (Yurdakul), Ziya Gökalp gibi aydınlarca savunulan bu fikir, azınlıkların ayrılmasıyla daha da güçlendi.
- Millî Mücadele'nin kazanılmasında da bu fikir etkili oldu.

Verilen bilgiler, Osmanlı Devleti'ni dağılmaktan kurtarmak isteyen bazı yönetici ve aydınların geliştirdiği aşağıdaki fikirlerden hangisine aittir?

- A) Osmanlıcılık B) Türkçülük
C) Batıcılık D) İslamcılık

3.



"Çocukluğuma ilişkin hatırladığım ilk şey, okula gitmek meselesiyle ilgilidir. Bu meseleden dolayı annemle babam arasında bir mücadele vardı. Annem mahalle mektebine gitmemi istiyordu. Gümrük Dairesinde memur olan babamsa o zaman yeni açılan bir okula devam etmemden ve yeni yöntem üzerine okumamdan yanaydı. Sonunda babam işi ustaca çözdü. Önce mahalle mektebine başladım. Böylece annemin gönlü yapılmış oldu. Birkaç gün sonra da mahalle mektebinden ayrıлып babamın istediği okula yazıldım."

Mustafa Kemal'in öğrenim hayatına yönelik kendi anlatımında geçen bu okul aşağıdakilerden hangisidir?

- A) Selânik Mülkiye Rüştiyesi
B) Selânik Askerî Rüştiyesi
C) Şemsi Efendi Okulu
D) Manastır Askerî İdadisi

4. I. Dünya Savaşı'na zemin hazırlayan önemli gelişmelerden biri de Fransız İhtilali'dir. İhtilalle ortaya çıkan "milliyetçilik" düşüncesi, çok uluslu devletlerin içerisindeki azınlıkların isyan etmelerine neden oldu. **Bu isyanlardan en fazla;**

- I. Osmanlı Devleti,
II. Avusturya-Macaristan İmparatorluğu,
III. Almanya,
IV. İtalya

Ülkelerinden hangileri etkilenmiştir?

- A) Yalnız III B) I ve II
C) II ve III D) III ve IV

5.

I. Dünya Savaşı Başladığında Osmanlı Devleti

Tarafsızlığını ilan etti.	Boğazları ulaşıma kapattı.	Ülke genelinde seferberlik başlattı.	Kapitülasyonları kaldırdığını duyurdu.
I	II	III	IV

Bu şemada numaralandırılan açıklamalardan hangisi ile Osmanlı Devleti'nin ekonomik baskılardan kurtulmaya çalıştığı söylenebilir?

A) I.

B) II.

C) III.

D) IV.

6.



Balkan Savaşları öncesinde Balkanlar



Balkan Savaşları sonrasında Balkanlar

Yukarıda verilen haritalar incelendiğinde aşağıdaki yargılardan hangisine ulaşamaz?

A) Bulgaristan en fazla payı alarak Ege Denizi'ne ulaşmıştır.

B) Meriç Nehri, Osmanlı-Bulgaristan sınırı olarak kabul edilmiştir.

C) Balkanlardaki altı yüz yıllık Türk hakimiyeti sona ermiştir.

D) Arnavutluk Devleti ortaya çıkmıştır.

7.

Genç Mustafa'nın okumaya karşı büyük bir ilgisi vardı. Yerli ve yabancı birçok fikir adamını okur ve onların fikirlerini analiz ederdi. Kitapları okurken sayfa kenarlarına notlar alır, kimi zaman kendi fikirlerini de bu notların yanına yazardı. Mustafa Kemal yabancı düşünce adamlarının eserlerinden istifade edebilmek için Fransızca öğrenmişti.

Parçadan yola çıkarak aşağıdaki yargılardan hangisine ulaşamaz?

A) Mustafa Kemal'in yabancı dil bilmesi yabancı gazete ve dergileri okuyabilmesinin yolunu açmıştı.

B) Okuduğu yabancı gazete ve dergiler Mustafa Kemal'in dünyada olup bitenlerden haberdar olmasına zemin hazırladı.

C) Onun bu özelliği resmî görevlerle Avrupa'da bulunmasında ve Batı'yı yakından tanimasında yardımcı oldu.

D) Yabancı dergi ve gazeteleri okumasıyla devletin ve halkın içine düştüğü durumu yakından görme imkânı buldu.

8.



Görselde Kurmay Binbaşı Mustafa Kemal'in bir cephesinde savaşırken gösterildiği Trablusgarp Savaşı devam ederken Balkanlarda da savaş çıktı. Böylelikle iki ateş arasında kalan Osmanlı Devleti, İtalya ile olan savaşını sonlandırmak zorunda kaldı. İmzalanan bir antlaşma (18 Ekim 1912) ile Trablusgarp İtalya'ya bırakıldı ve Trablusgarp halkının dinî yönden Osmanlı halifesine bağlı kalması kabul edildi. Böylece Osmanlı Devleti, Yavuz Selim Devri'nde ayak bastığı Afrika kıtasından tamamen çekildi.

Açıklamada geçen antlaşma aşağıdakilerden hangisidir?

- A) Uşi Antlaşması
- B) Mondros Ateşkes Antlaşması
- C) Paris Konferansı
- D) Londra Antlaşması

9. I. Kanun-i Esasi adıyla Türk tarihinin ilk anayasasının hazırlanması

II. 31 Mart Vakası'nın yaşanması

III. II. Meşrutiyet Dönemi'nin başlaması

Osmanlı Devleti'nin son zamanlarında yaşanan bu gelişmelerin kronolojik sırası aşağıdakilerden hangisinde doğru verilmiştir?

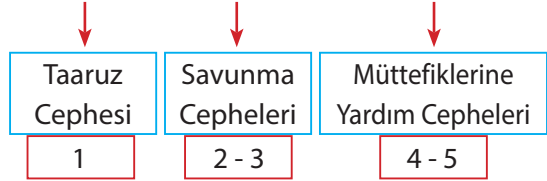
- A) I - II - III
- B) I - III - II
- C) III - II - I
- D) II - I - III

10.



Verilen haritada Osmanlı Devleti'nin I. Dünya Savaşı'nda savaştığı cepheler gösterilmiştir. **Bu cephelerden hangileri aşağıdaki şemada yanlış yerleştirilmiştir?**

Osmanlı Devleti'nin Birinci Dünya Savaşı'nda Yer Aldığı Cepheler



- A) Yalnız 1
- B) Yalnız 5
- C) 2 ve 3
- D) 3 ve 4

1. Ece anlatmaya başladı:

— Allah (c.c) evreni o kadar güzel bir ölçüyle yaratmış ki ölçülerin sınırlarının çoğu hâlâ çözülememektedir. Sırları çözülebilen ölçüler de insanları hayretler içinde bırakmaktadır. Güneş ile Dünya arasındaki uzaklığın 149,6 milyon kilometre olduğu bilinmektedir. Dünya’da yaşamın olabilmesi için en uygun ölçü budur. Bu uzaklık, Dünya’nın yüzeyinde suyun sıvı hâlde bulunabilmesinin ölçüsüdür. Eğer bu uzaklık daha az olsaydı sular buharlaşabilirdi. Daha fazla olsaydı sular donabilirdi.

Ece’nin sözlerini aşağıdaki ayetlerden hangisi ile tamamlaması beklenemez?

- A) “O yaratıp şekillendiren, ahenk veren ve düzene koyandır. O, (her şeyi) bir ölçüyle yapıp yönlendirendir.” (Alâ suresi, 2-3. ayetler.)
- B) “...Her şeyi yaratan ve bir ölçüye göre düzenleyen Allah’tır.” (Furkân suresi, 2. ayet)
- C) “Güneş ve Ay bir hesaba göre hareket etmektedir.” (Rahman suresi, 5. ayet)
- D) “...Yoluna gücü yetenlerin o evi haccetmesi, Allah’ın insnalar üzerinde bir hakkıdır...” (Âl-i İmrân suresi, 97. ayet.)

2. Bir trafik kazasına şahit olan Ayşe, yaşadığı olayı şöyle anlattı:

— Nasıl böyle duyarsız olabiliyoruz? İnana-mıyorum. Kaza olmuş, bir insan yerde yatıyor, kan kaybediyor. Kimse ambulans çağırma-yı düşünmüyor. Felekten, alın yazısından bahsediyorlar. Sanki her şey olup bitmiş, dünya-nın sonu gelmiş.

Bu olayda Ayşe, toplum tarafından hangi kavramın yanlış anlaşılmasına tepki göstermektedir?

- A) Kader
C) Sadaka
- B) Ahiret
D) Rızık

3.

BİLİYOR MUSUNUZ?

Canlıların hemen hemen hepsinin dolaylı ya da dolaysız besin kaynağı, bitkilerin fotosentezle ürettiği organik bileşiklerdir.

Verilen açıklama Yüce Allah’ın evrene koyduğu aşağıdaki yasalardan hangisine örnektir?

- A) Fiziksel yasalar
C) Biyolojik yasalar
- B) Kimyasal yasalar
D) Toplumsal yasalar

4. “Bu Kur’an; kendisiyle uyarılınsınlar, Allah’ın ancak tek ilah olduğunu bilsinler ve akıl sahipleri düşünüp öğüt alsınlar diye insanlara bir bildiridir.” İbrâhîm suresi, 52. ayet.

Verilen ayet mealinden yola çıkılarak aşağıdaki yargılardan hangisine ulaşamaz?

- A) İnsan akıl ve irade sahibi bir varlıktır.
- B) İnsan eylemlerinden sorumlu değildir.
- C) İnsana düşünme yeteneği verilmiştir.
- D) İnsana vahiyle doğru yol gösterilmiştir.

5. İslam dini çalışmadan, dilenerek geçinmeyi hoş görmemiştir.

Hz. Muhammed (s.a.v.) aşağıdaki sözlerinden hangisi ile bu konuya dikkat çekmiştir?

- A) “Kimse kendi elinin emeğinden daha hayırlı bir rızık yememiştir...”
- B) “Sadaka verenin rızık artar ve duası kabul olur”
- C) “Bir yerde salgın hastalık olduğunu duyar-sanız oraya yaklaşmayın, siz oradayken çıktığında da oradan ayrılmayın.”
- D) “Yer ve gökler adalet ile ayakta durmaktadır.”

6. Amerikan, İngiliz ve Avusturyalı bilim insanları ortak bir raporla Dünya'nın 10 yıl sonra çevre felaketleri açısından kötü bir duruma geleceğini duyurdu. Çünkü dünya ısınıyor.

Bu durumun oluşmasının nedenlerinden birisi de Allah (c.c) tarafından konulan fiziksel yasalara insanların özen göstermemesidir.

Aşağıda verilen ayetlerden hangisinde, bu konu ile ilgili olarak insanlar uyarılmaktadır?

- A) "Kim iyi bir iş yaparsa, bu kendi lehinedir. Kim de kötülük yaparsa aleyhinedir. Rabb'in kullara zulmedici değildir." (Fussilet suresi, 46. ayet)
- B) "...Kuşkusuz, bir Allah'a aitiz ve ona döneceğiz..." (Bakara suresi, 156. ayet)
- C) "...Kararını verdiğin zaman artık Allah'a dayanıp güven. Çünkü Allah, kendisine dayanıp güvenenleri sever." (Âl-i İmran suresi, 159. ayet)
- D) "... Göğü Allah yükseltti ve mizanı (dengeyi) O koydu. Sakın dengeyi bozmayın." (Rahman suresi 5. ve 8. ayetler)

7. Hz. Ömer (r.a) halifelik döneminde bir gün Şam'a gitmek üzere yola çıkar. Onu yolda Şam'daki ordu komutanları karşılar ve ona Şam'da veba hastalığı çıktığını haber verirler. Hz Ömer (r.a), önlem olarak bu salgın hastalığın çıktığı yere girmemeye karar verir ve yarıdakilere geri döneceğini söyler.

Hz. Ömer'in bu davranışından yola çıkılarak aşağıdakilerden hangisine ulaşamaz?

- A) İnsan akli sayesinde lehine olan durumları tercih eder.
- B) İnsan fiil ve davranışlarında irade hürriyetine sahiptir.
- C) İnsan Allah'ın (c.c) kendisine tanıdığı imkanlar içerisinde iş ve davranışlarını seçer.
- D) İnsan, kendi iradesiyle tercih ettiği fiil ve davranışlarında sonsuz bir özgürlüğe sahiptir.

8. Kalbimizin çalışması, nefes alıp verişimiz, midemizin yiyecekleri sindirimi irademiz dışında gerçekleşir. Ne zaman, nerede, hangi anneden doğacağımıza; hangi ırktan olacağımıza biz karar veremeyiz.

Verilen açıklama aşağıdaki kavramlardan hangisi ile ilgilidir?

- A) Külli irade
B) Cüzi irade
C) Tevekkül
D) Sorumluluk

9. Kur'an insanları toplumsal yasalara uygun davranmaya davet eder.

Buna göre aşağıdakilerden hangisi söylenemez?

- A) Kur'an-ı Kerim'de toplumsal yasalara işaret edilmektedir.
- B) Kur'an'da bildirilen toplumsal yasaların temel özelliği, toplumun düzeninin korunması ve devamlılığının sağlanmasına yöneliktir.
- C) Toplum oluşturulan bireylerin can ve namus güvenliği toplumsal yasalara girmez.
- D) Kur'an'da ve Hz. Peygamber'in (s.a.v) hadislerinde toplumsal yasaların korunması istenir.

10. Henüz depremin ne zaman olacağını kesin olarak bilme imkânına sahip olmamakla birlikte tespit edilen fay hatları sebebiyle nerelerde olma ihtimalinin olduğunu bilebilmekteyiz.

Buna göre aşağıdakilerden hangisi söylenemez?

- A) Fiziksel yasaları bilmenin insana sağladığı pek çok yarar vardır.
- B) Biyolojik yasaları ne kadar keşfedebilirsek evrendeki düzeni de o ölçüde koruyabiliriz.
- C) Sağlıklı yaşamak için toplumsal yasaları bilmemiz önemlidir.
- D) Toplumsal yasaları bilmek, toplumun birlik ve bütünlüğünün sağlanmasına katkı sağlar.

1. **Baran** :

Bart : I don't have any plans. Why do you ask?

Baran : I am organizing a barbeque party at my place on Saturday. ?

Bart : Sounds great. What time does it start?

Baran : At about seven pm. ?

Bart : Sure. It is Purple Bay Road 32.

Baran : Great! I am sure we will have lots of fun.

Bart : See you on Saturday.

Which of the following DOES NOT complete the conversation above?

- A) Are you doing anything tonight
- B) Do you know my address
- C) Why don't you join us
- D) Shall I bring anything

2.

	fair	laidback	generous	honest
Paulina		✓		
Paul	✓		✓	
Tuğrul			✓	✓
Reyhan	✓		✓	✓

Which of the following IS NOT correct according to the table above?

- A) Reyhan and Tuğrul are reliable people.
- B) Paul likes giving presents to his friends.
- C) Reyhan never worries about anything.
- D) Paulina is always calm and relaxed.

3.

**FULL TIME COLLEGE
REUNION PARTY
FOR THE CLASS OF 2014**

Don't miss the chance to see your old classmates and meet with your teachers.

Saturday, October 17

Downtown Hotel, İstanbul

€20 for each person

P.S. Inform Mrs. Madison until 10 October to attend. Otherwise we won't be able to accept your requests to join the event.

On the invitation card above, there is no information about

- A) the date of the party
- B) the contact person of the party
- C) the deadline to join the event
- D) the number of people attending to the event

4. **Gözde** : I am organizing a slumber party at my place on Friday. Fancy joining us?

Julie : For sure. I can't refuse that.?

Gözde : Our classmates. Doğa and Sally.

Julie : Sounds fun. I like being with them because they are always cheerful and fun to be with.

Which of the following completes the conversation above?

- A) Why don't we go to the movies instead
- B) Who else is coming to the party
- C) Where is the party going to be
- D) Can you pick me up, please

5. **Waiter** : Welcome, sir. May I take your order?

Fuat : Sure. I'd like to start with the lentil soup.

Waiter : OK. What would you like as a main course?

Fuat : I want grilled chicken with vegetables.

Waiter : And dessert?

Fuat : A slice of apple pie. That's all.

Waiter : All right.

Which picture DOES NOT show Fuat's order?



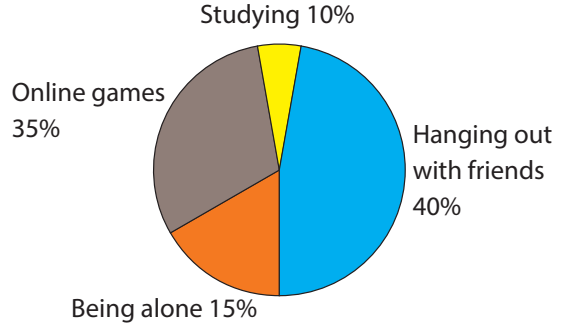
6. Engin is into rock music. He thinks it is terrific. He always listens to rock music bands and also plays the drums in a local band. He is also interested in poetry. He usually buys poem books and likes reading them. However, he can't stand social media. He never uses any of them because he thinks they are nonsense.

According to the text, Engin

- A) cannot play a musical instrument
- B) finds rock music awesome
- C) prefers doing sports to reading poems
- D) has an account on Instagram and Twitter

7. **Here are the results of a survey on how teens spend their free time.**

TEENS' PREFERENCES



- Hanging out with friends
- Online games
- Being alone
- Studying

Which of the following IS NOT correct according to the graph above?

- A) Studying is the least popular free time activity.
- B) Teens mostly prefer hanging out with friends.
- C) Playing online games is less popular than being alone.
- D) Teens prefer being alone to studying.





8. **Rita** : What type of music do you like?
Seda : Rap, of course.
Rita : Who is your favourite rap singer?
Seda : Eminem is my hero. He is the king of rap.
Rita : Why do you think so?
Seda :

Which of the following completes the conversation?

- A) I think he is unbearable.
 B) Because he composes the best classical music.
 C) Because his songs are terrific
 D) I can't even stand listening to Eminem.




9. My best friend, Thomas, is fond of doing sports. He is interested in all kinds of sports but he never does dangerous sports. It is because he finds them too risky. Thomas prefers doing safer sports.

Which sport DOES NOT Thomas like doing?

- A)  B) 
- C)  D) 

10. Hello! My name is Martin. I am a student at a high school in New Orleans. My life is sometimes boring but I like it. Every morning, I have breakfast at home after I have a shower and then leave for school. Our house is very close to my school so I usually ride my bike or walk to school. After school, I usually meet my friends and hang out with them at the mall. Later, I come home and finish my homework. After dinner with my family, I go online and relax.

Which of the following DOES NOT show what Martin does in his routine?

- A)  B) 
- C)  D) 